

«ΠΡΟΣΑΝΑΤΟΛΙΣΜΟΣ»

ΓΕΩΛΟΓΙΑ-ΓΕΩΓΡΑΦΙΑ


ΤΑΞΗ Α ΓΥΜΝΑΣΙΟΥ


ΦΥΛΛΑΔΙΟ ΕΡΓΑΣΙΑΣ ΜΑΘΗΤΗ/ΜΑΘΗΤΡΙΑΣ


Β.2 Προσανατολισμός στο χάρτη της Ελλάδας

Ανοίξτε την εφαρμογή «Προσανατολισμός». Βλέπετε ένα χάρτη, όπου απεικονίζεται η Ελλάδα και ένα μέρος της Τουρκίας. Μπορείτε να δείτε στο χάρτη πού βρίσκονται διάφορες πόλεις και περιοχές. Σε κάθε μία από τις πόλεις αυτές

υπάρχει ένα σπιτάκι. Επιλέξτε το εικονίδιο με την πυξίδα  στα δεξιά της

οθόνης, και στη συνέχεια το εικονίδιο με το σπιτάκι  που βρίσκεται πάνω από

την πυξίδα. Στην οθόνη τώρα βλέπετε μία πυξίδα  που βρίσκεται κάτω αριστερά στην οθόνη. Επίσης, στην πόλη της Αθήνας εμφανίστηκε μία κόκκινη

βούλα με πράσινο περίγυρο .

Β.2.1 Ελάτε τώρα να παίξουμε ένα παιχνίδι! Επιλέξτε την πυξίδα και σύρετέ την με το ποντίκι επάνω σε κάθε μία από τις πόλεις παρακάτω. Συμπληρώστε στον πίνακα που ακολουθεί πού βρίσκεται κάθε πόλη σε σχέση με την Αθήνα.

Πόλη	Πού βρίσκεται η πόλη σε σχέση με την Αθήνα;
Σέρρες	
Ιωάννινα	
Ζάκυνθος	
Καλαμάτα	
Χανιά	
Σάμος	

B.2.4 Στη συνέχεια συμπληρώστε τον πίνακα που ακολουθεί.

Ποιες πόλεις βρίσκονται στα Βόρεια της Ελλάδας;(3 ΟΝΟΜΑΤΑ)
Ποιες πόλεις βρίσκονται στα Νότια της Ελλάδας; (3 ΟΝΟΜΑΤΑ)
Ποιες πόλεις βρίσκονται στα Ανατολικά της Ελλάδας; (3 ΟΝΟΜΑΤΑ)
Ποιες πόλεις βρίσκονται στα Δυτικά της Ελλάδας; (3 ΟΝΟΜΑΤΑ)